

活动4

1.秦岭—淮河线是我国一条重要的地理分界线，大致与1月平均气温 0°C 线和800毫米年等降水量线相吻合，成为我国东部季风区内北方地区与南方地区的分界线。结合有关材料，比较北方地区和南方地区的区域差异。

项 目		北方地区	南方地区
自然条件差异	地 形	以平原和高原为主	山地、丘陵、平原、盆地、高原均有分布
	气 候	温带季风气候	
	植 被		常绿阔叶林及热带季雨林
	土 壤		红壤、砖红壤

项 目		北方地区	南方地区
社会经济条件差异	农业生产	以旱作为主，小麦、玉米生产占据突出地位	
	工业生产		
	产业结构		
	交通运输		
	对外联系		

2.在省级行政区域内部，也存在着明显的区域发展差异。读图1-19、图1-20、图1-21，完成相关任务。

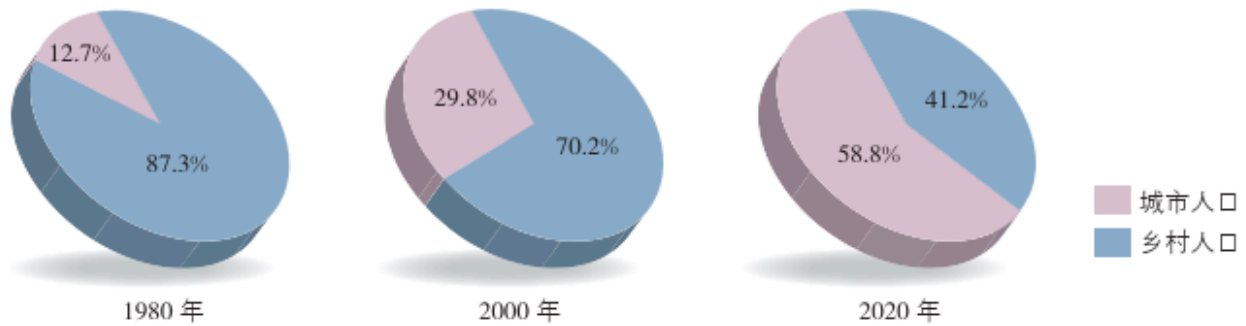


图 1-19 湖南省城市与乡村人口结构变化

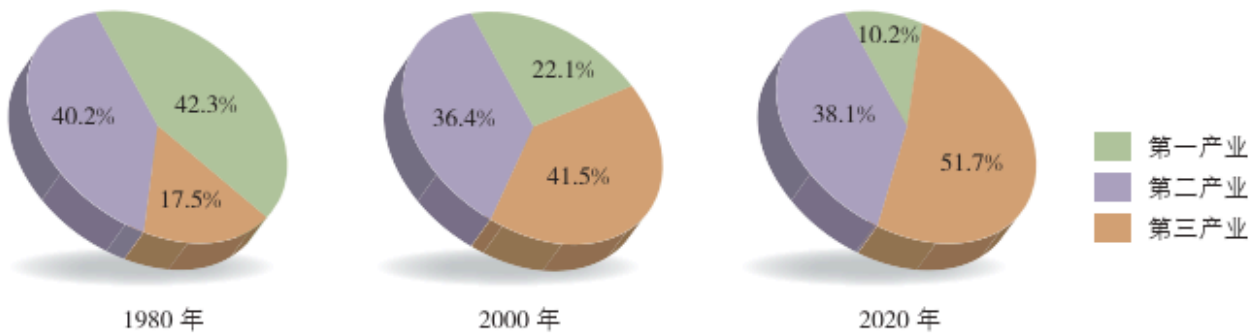
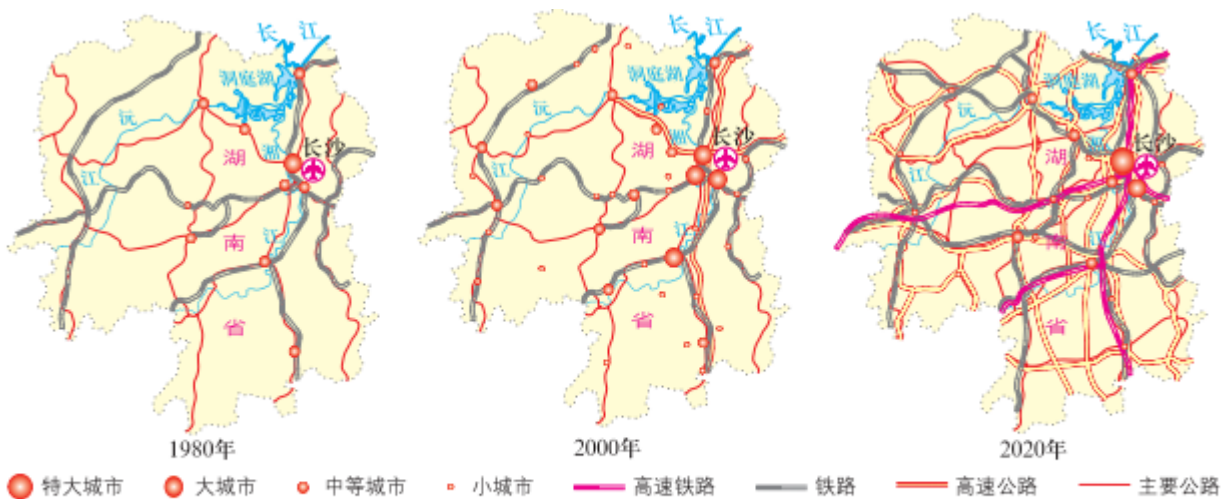


图 1-20 湖南省产业结构变化



注：2020年的城市等级是以城区人口标准划分的。

图 1-21 湖南省城市空间分布变化

(1) 分析湖南省城乡人口结构、产业结构以及城市空间分布变化的原因。

(2) 议一议，导致上述变化的主要动力有哪些？